

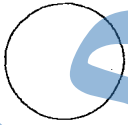



باسمه تعالی

تاریخ امتحان : / /  
 نام واحد آموزشی :  
 مدت : ۹۰ دقیقه

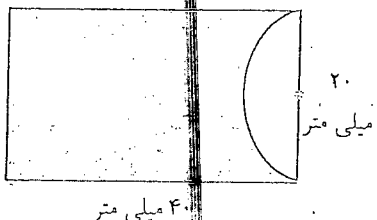
وزارت آموزش و پرورش  
 اداره کل آموزش و پرورش استان  
 نام و نام خانوادگی :  
 ریاضی مدیریت آموزش و پرورش  
 سوالات هماهنگ ریاضی ، ماه  
 کلاس : پنجم

بارم	سوال	نمره
۱	با توجه عدد (۰۸۴۸۹۳۰۰۵۱۷۹) به سوالات زیر پاسخ بده. الف) عدد را با حروف بنویس. ب) کدام رقم بیشترین ارزش مکانی را دارد؟	۱
۰/۱۵	۲ برای عدد مخلوط ( $۳\frac{۳}{۴}$ ) شکل بکش.	۰/۱۵
۰/۱۵	۳ کدام شکل چهار خط تقارن دارد؟ الف)  ب)  ج)  د) 	۰/۱۵
۱/۵	۴ زمینی است به شکل لوزی که اندازه‌ی دو قطر آن ۶۰۰ متر و ۴۰۰ متر است. مساحت این زمین چند هکتار است؟	۱/۵
۰/۷۵	۵ در جای خالی عدد مناسب بنویس. $\frac{۲۰}{۳۵} = \frac{۴}{۷}$ $\frac{۶}{۵} = \frac{۴۸}{\square}$	۰/۷۵
۲/۵	۶ عملیات زیر را انجام بده. $\frac{۲}{۹} - \frac{۴}{۷} =$ $\frac{۲۷}{۳۰} \div \frac{۹}{۳۰} =$ $\frac{۵}{۷} \times \frac{۴}{۹} =$ $۱۲ \frac{۳}{۵} - ۸ \frac{۴}{۷} =$	۲/۵

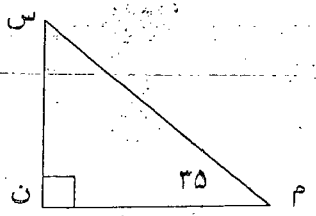
باسمه تعالی

تاریخ امتحان :  
نام واحد آموزشی :  
مدت : ۹۰ دقیقه

وزارت آموزش و پرورش  
اداره کل آموزش و پرورش استان  
نام و نام خانوادگی :  
سوالات امتحان درس : ریاضی مدیریت آموزش و پرورش  
کلاس : پنجم  
سوالات هماهنگ ریاضی

بارم	سوالات	نمره
۱/۵		۱۵ مساحت قسمت رنگ شده را حساب کن.
۱		۱۶ معدل سه عدد ۱۵، ۱۹ و ۲۰ را حساب کن.
۰/۱۵		۱۷ در جای خالی عدد مناسب بنویس. ۲۵ سانتی متر یعنی ..... متر ۰/۳ کیلو گرم یعنی ..... گرم
۱		۱۸ یک فیلم سینمایی ساعت ۳:۰۰ تا ۴:۵۰ شروع شد و ساعت ۴:۰۰ تا ۱۰:۱۵ به پایان رسید. این فیلم چه مدت طول کشیده است؟
۱/۵		۱۹ علی ۵ ساعت و محمد ۳ ساعت کار کرده اند. آن‌ها روی هم ۳۲۰۰۰ تومان مزد گرفته اند. مزد هر یک چند تومان می شود؟

دانش آموز عزیز لطفاً در این قسمت چیزی ننویسید			
نمره با عدد	نمره با حروف	نام و نام خانوادگی مصحح	امضا
نمره تجدیدنظر		نام و امضای تجدیدنظر کننده :	

شماره	سوالات	بارم
	۷ جمله‌های زیر را کامل کن. الف) مساحت دریاچه‌ی ارومیه را با واحد ... بیان می‌کنند. ب) زاویه‌ها را با وسیله‌ای به نام ... اندازه می‌گیرند.	
۸	باغچه‌ای داریم به شکل دایره که قطر آن ۶ متر است. محیط این باغچه چند متر است؟	۷۵
۹	در مربع چه رقمی قرار دهیم تا عدد سه رقمی حاصل هم بر ۵ و هم بر ۳ بخش پذیر باشد.	۱۵
	۸ <input type="text"/> ۵	
۱۰	فاطمه ۲۰۰۰ تومان پول داشت. او با $\frac{1}{4}$ پول خود یک دفتر خرید. الف) فاطمه چند تومان خرج کرده است؟ ب) چند تومان از پولش باقی مانده است؟	۱۵
۱۱	مقایسه کن. ثلث عدد ۱۵ = <input type="text"/>	
	$\frac{1}{3}$ <input type="text"/> $\frac{2}{5}$ $\frac{1}{6}$ <input type="text"/> $\frac{4}{8}$ $\frac{4}{9}$ <input type="text"/> $\frac{6}{8}$	
۱۲	با توجه به شکل، اندازه‌ی زاویه‌ی (س) چند درجه است؟ (با عملیات)	
		
۱۳	منبع آبی داریم که ابعاد آن ۹، ۵ و ۴ متر است. حجم این منبع چند متر مکعب است؟	
۱۴	دبستانی ۳۰۰ دانش آموز دارد. ۲۵٪ آن‌ها برای خرید کتاب به نمایشگاه کتاب رفته‌اند. چند نفر به نمایشگاه رفته‌اند؟	